

DE WERELD IN GETALLEN 4 | WERKBLADEN | GROEP 8

Rekenpuzzels

1 Dieren en rekenen

Reken uit.

Bever



Een bever zwemt 8 km/uur.
Hoelang doet hij over 28 km?

_____ uur


Zeeotter



Op 1 cm² van de zeeotter staan 150.000 haren. Hoeveel haren staan er op 6 cm²?

_____ haren

Robijnkeelkolibrie







De kolibri eet per dag de helft van zijn gewicht op. Hoeveel eet een kolibri van 3 gram in 5 dagen?

_____ gram

2 Dierenrecords

42 km in 3 kwartier	•
10 km in 1 kwartier	•
125 km in 2,5 uur	•
25 km in 1 kwartier	•

	•
100 km/uur	
	•
50 km/uur	
	•
56 km/uur	
	•
40 km/uur	

DE WERELD IN GETALLEN 4 | WERKBLADEN | GROEP 8
3 Wormen rekenen

Vul de lege vakjes in.

0,3	0,9	1,5	3,3	3,9
-----	-----	-----	-------	-------	-----	-----

0,5	1,6	2,7	6,0	7,1
-----	-----	-----	-------	-------	-----	-----

0,1	0,2	0,4	3,2	6,4
-----	-----	-----	-------	-------	-----	-----

Romeinse cijfers

I = 1
 IV = 4
 V = 5
 VI = 6
 X = 10
 L = 50
 C = 100
 D = 500
 M = 1000

4 Romeinse cijfers

a Zet de Romeinse cijfers om in getallen.

Giraf

Een giraf slaapt XV minuten per dag.

_____ minuten

Afrikaanse olifant

Een Afrikaanse olifant kan LX jaar worden.

_____ jaar

Neushoorn

Een neushoorn wandelt ongeveer XIX kilometer per dag.

_____ kilometer

b Zet de getallen om in Romeinse cijfers.

Slechtvalk

De slechtvalk is het snelste dier op aarde. Bij een duikvlucht vliegt hij 350 kilometer per uur.

_____ kilometer

Leeuw

Een leeuw kan 24 jaar worden.


_____ jaar

Nijlpaard

Een vrouwtjesnijlpaard weegt ongeveer 1500 kilo.

_____ kilo

DE WERELD IN GETALLEN 4 | WERKBLADEN | GROEP 8



5 Maanden van het jaar

a Vul de goede maand in.

	Geboren in de 3 ^e maand van het 3 ^e kwartaal.
	Geboren in de 2 ^e maand van het 1 ^e kwartaal.
	3 maanden voor de leeuw geboren.
	Geboren op 11-12-2015. Dat is in de maand...
	Op 15-6 was hij 83 dagen oud. Hij is dus geboren in de maand...

↓

			s	e	p	t	e	m	b	e	r

b Wat staat onder de pijl? _____