

PLUSPUNT 3 | LESSUGGESTIE | GROEP 7 | WERKBLAD

Dieren voederen in de dierentuin

1 Kratten vol eten

Zoek 2 bedragen die samen € 40,50 zijn.

Gebruik alle bedragen 1 keer.



€ 19,75 + € 20,75 = € 40,50

€ 14,75 + € 25,75 = € 40,50

€ 13,25 + € 27,25 = € 40,50

€ 26,75 + € 13,75 = € 40,50

€ 18,25 + € 22,25 = € 40,50

2 Hoeveel kost het?













Reken uit.

 +  +  = € 1,50

 +  +  = € 2,30

 -  -  = € 0,10

 +  +  = € 1,80

	+		+		= € 1,20
	+		+		= € 1,40
	+		+		= € 1,00
	+		+		= € <u>1,20</u>

3 Eten wegen

Hoeveel bananen is 1 emmer vis?



4 Zeehonden voeren

Maak het goede rijtje.

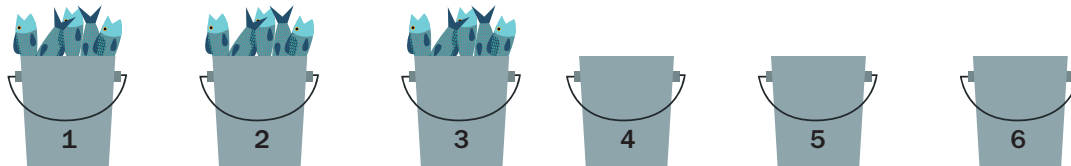
De zeehonden worden gevoerd.

De emmers 1, 2 en 3 zijn vol met vis.

De emmers 4, 5 en 6 zijn leeg.

Bedenk hoe je een rijtje vol-leeg-vol-leeg-vol-leeg maakt.

Je mag 1 emmer verplaatsen.



Doe de vissen uit emmer 2 in emmer 5. Zet emmer 2 weer terug.